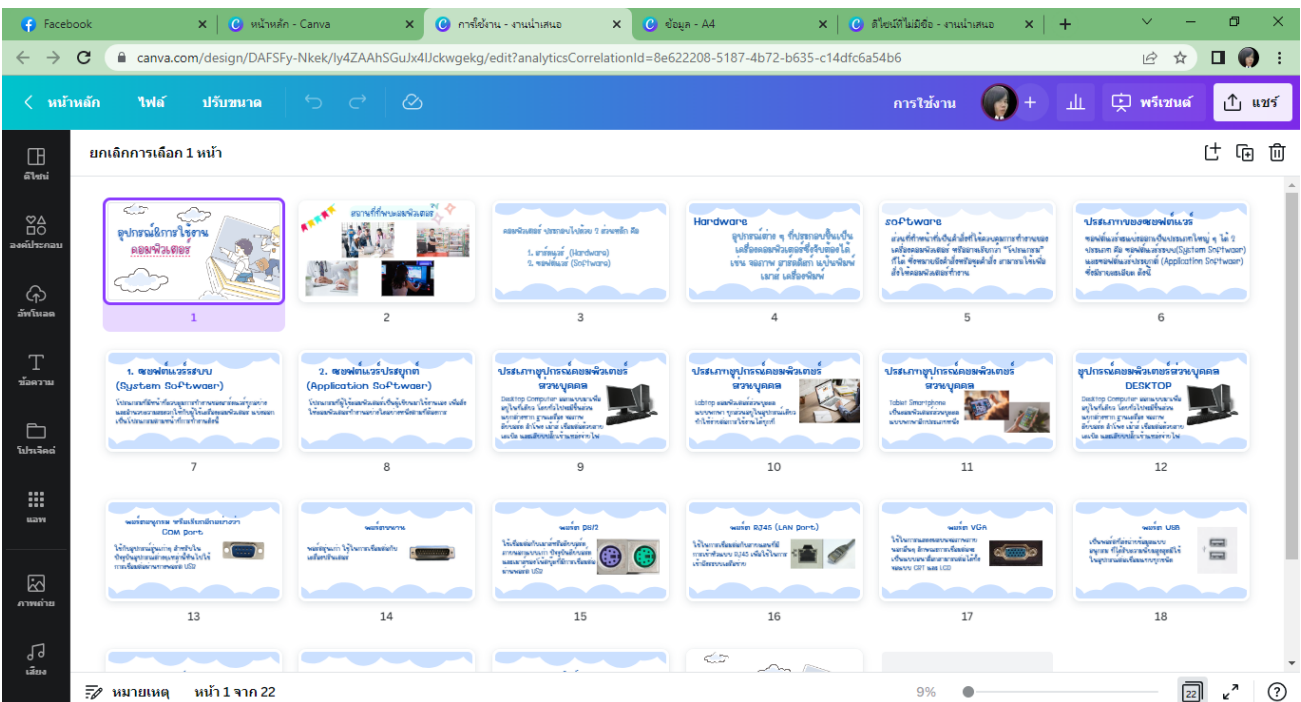
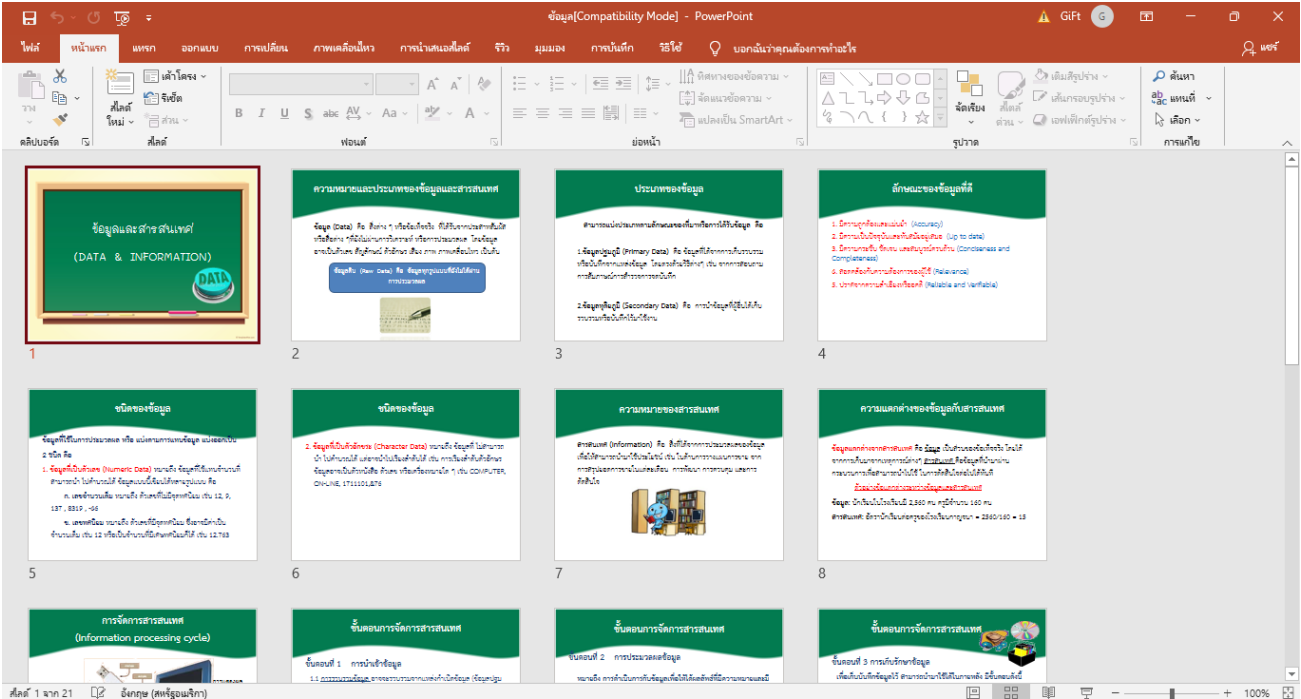


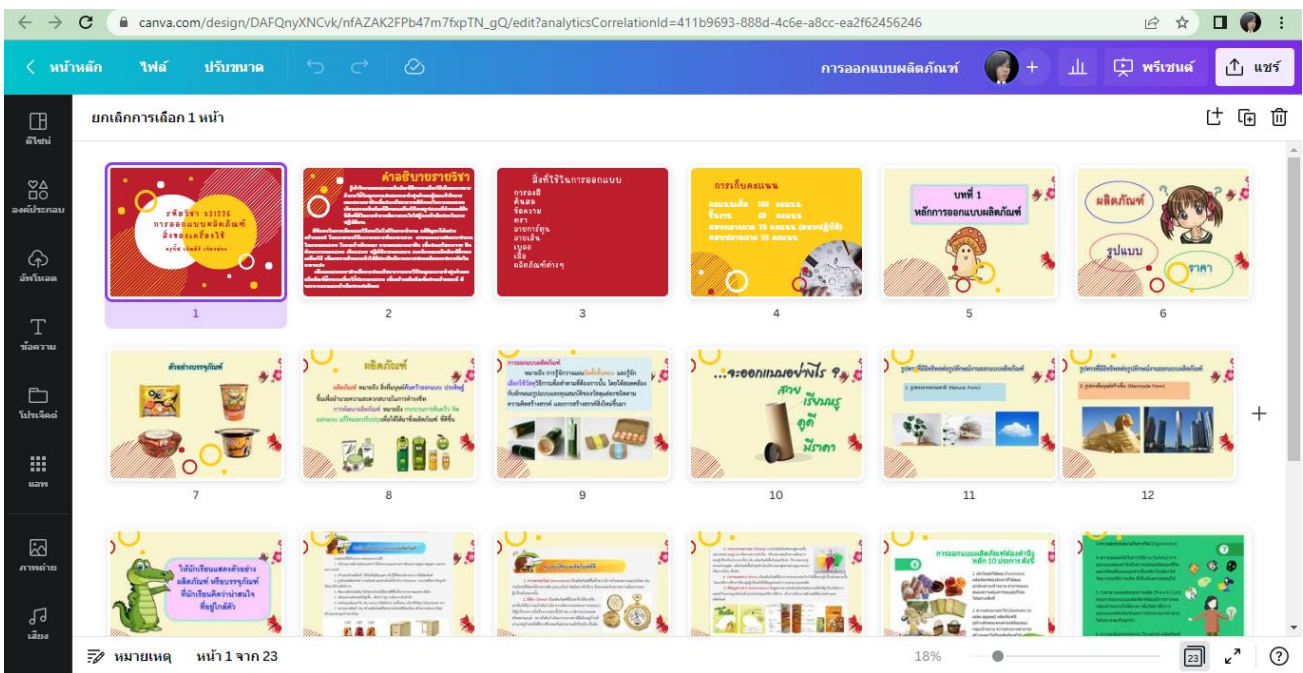
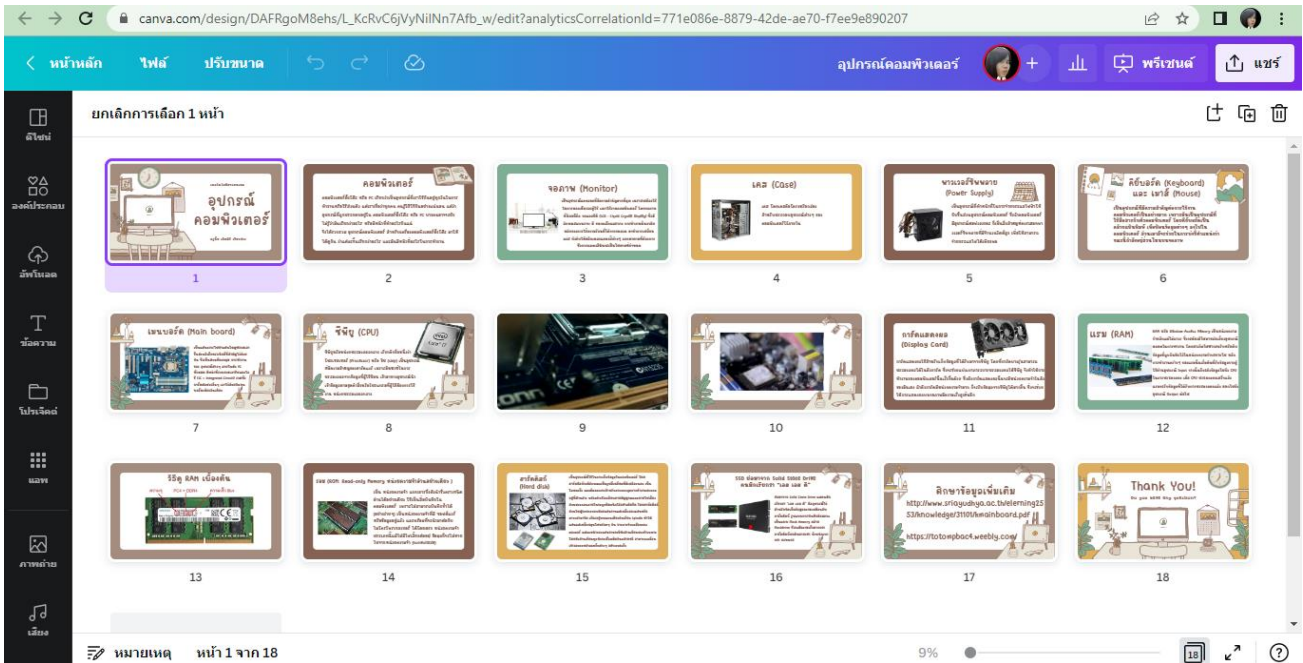
รายการสื่อ Power Point และใบงาน ที่ใช้ในการเรียนการสอน

ชั้นมัธยมศึกษาปีที่ 1

รายวิชาเทคโนโลยีสารสนเทศ

รายวิชาการออกแบบผลิตภัณฑ์สิ่งของเครื่องใช้






Name.....Class.....No.....

PORT COMPUTER

ให้นักเรียนลากเส้นจับคู่ช่องสัญญาณที่ตรงกับสายเคเบิ้ลให้ถูกต้อง พร้อมบอกชื่อของช่องสัญญาณ (Port)

<p>.....</p> 	
<p>.....</p> 	
<p>.....</p> 	
<p>.....</p> 	
<p>.....</p> 	
<p>.....</p> 	





ให้นักเรียนบอกหน้าที่ของช่องสัญญาณเชื่อมต่อ

1. Power connection =

2. Ethernet Port =

3. USB Port =

4. Display Port, HDMI =

5. VGA Port =

6. Line In =

7. Line Out =



ชื่อ-นามสกุล

ชั้น

เลขที่

ข้อมูล

ข้อมูล หมายถึง

.....

.....

.....

ให้ห้กรรเรรียนยกตัวอย่างข้อมูลในชีวิตประจำวัน

- 1.....
- 2.....
- 3.....
- 4.....
- 5.....

ชนิดข้อมูลแบ่งตามแหล่งที่มา แบ่งเป็น ประเภท

- 1.....
-
-

ตัวอย่างข้อมูล 1.....

2.....

- 2.....
-
-

ตัวอย่างข้อมูล 1.....

2.....



ข้อมูล

จำนวนนักเรียน รร.เทพศิรินทร์ลาดหญ้า กาญจนบุรี ทั้งหมด คน
 ม.1 คน ม.2 คน ม.3 คน
 ม.4 คน ม.5 คน ม.6 คน

จำนวนต้นไม้หน้าอาคาร 1 ทั้งหมด ต้น

คุณครูที่เกิดในเดือนธันวาคมทั้งหมด คน

.....

จำนวนคอมพิวเตอร์ในห้องคอมพิวเตอร์ 3 เครื่อง

ประวัติโรงเรียนเทพศิรินทร์ลาดหญ้า กาญจนบุรี

.....

เนื้อที่ของโรงเรียนเทพศิรินทร์ลาดหญ้า กาญจนบุรี

.....

ปรัชญา

.....

ทศนิยม

.....



ชื่อ.....นามสกุล.....ชั้น.....เลขที่.....

Computer Word Search

ให้นักเรียนหาคำที่กำหนด และใส่ความหมายของคำให้ถูกต้อง

S	C	O	M	P	U	T	E	R	S	E	S	S
D	U	A	U	H	F	I	N	E	U	H	H	M
S	U	P	R	O	C	E	S	S	O	O	A	I
I	A	S	E	R	S	P	S	P	P	P	L	N
S	M	I	C	R	H	R	P	P	E	F	L	I
W	A	N	E	S	C	I	I	T	P	U	S	C
I	R	P	C	N	N	O	M	N	D	H	T	O
M	H	U	R	G	L	E	M	E	E	E	O	M
G	B	T	P	V	T	S	U	P	S	H	R	P
H	A	O	A	C	A	S	I	O	U	R	A	U
E	D	U	C	A	T	I	O	N	O	T	G	T
S	E	A	R	C	H	A	C	H	F	R	E	E
O	U	T	P	U	T	S	U	P	S	H	R	R



STORAGE =

COMPUTER =

INPUT =

PROCESS =

OUTPUT =

SUPERCOMPUTER =

MINICOMPUTER =

SHOPPING =

SEARCH =

EDUCATION =



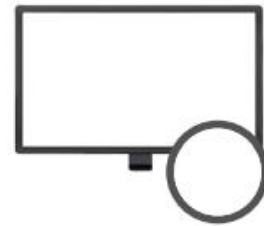
Name :

Class :

No :

COMPUTER

Match the pictures with the words. write the letter in the circle.



A. Power Supply

D. Monitor

G. Harddisk

B. Case

E. RAM

H. Mainboard

C. Display Card

F. CPU

I. SSD



ให้นักเรียนบอกหน้าที่ของอุปกรณ์ต่อไปนี้

- A. Power Supply =
- B. Case =
- C. Display Card =
- D. Monitor =
- E. RAM =
- F. CPU =
- G. Harddisk =
- H. Mainboard =
- I. SSD =

